
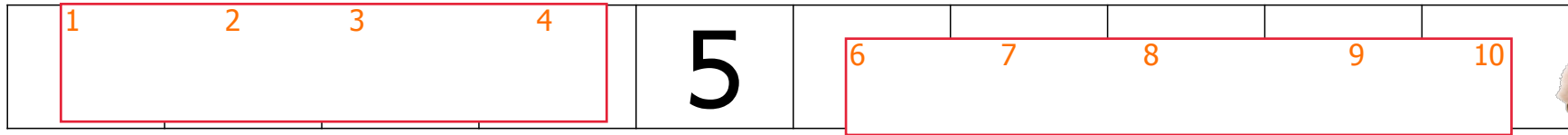


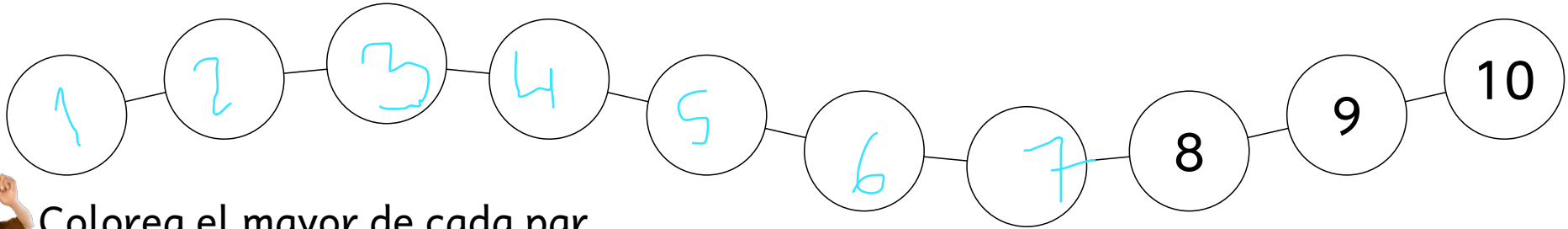


Completa la tabla con los números hasta el 30.

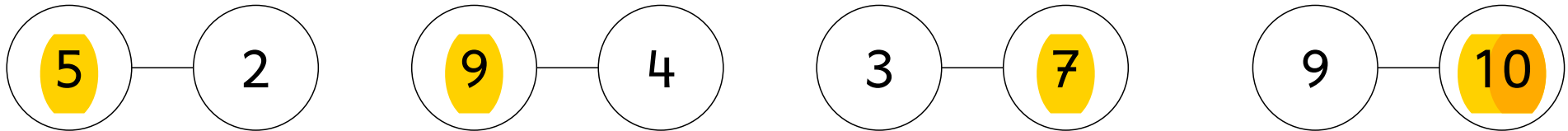
# NÚMEROS HASTA EL 10



Completa las series



Colorea el mayor de cada par.



Completa la recta numérica.





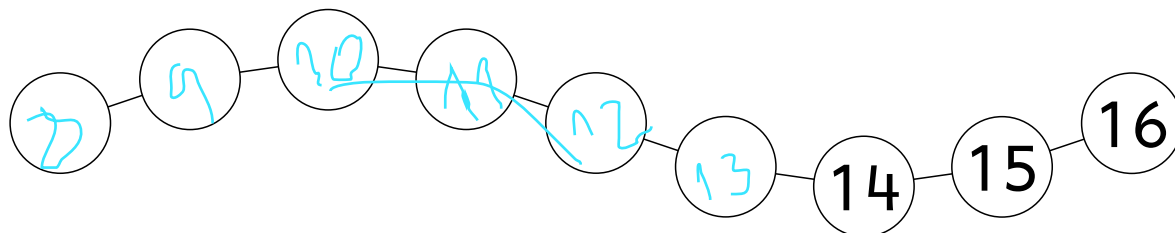
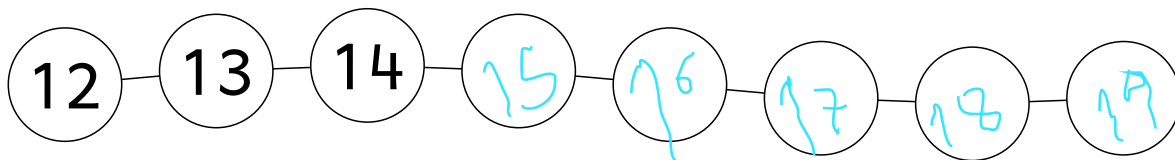
Completa la tabla con los números hasta el 20.

# NÚMEROS HASTA EL 20

1	2-3-4-5-6-7-8-9-10-11-12-13-14-15-16-17-18-19-20



Completa las series



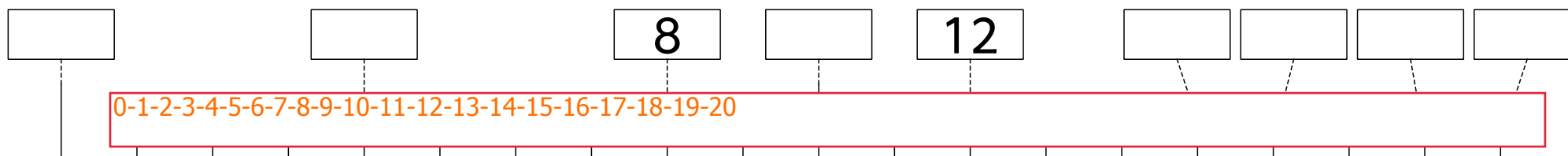
Completa la casita.

(Escribe la cantidad que falta para completar 13 en cada caso)

13	
4	9
11	2
8	5



Completa la recta numérica.





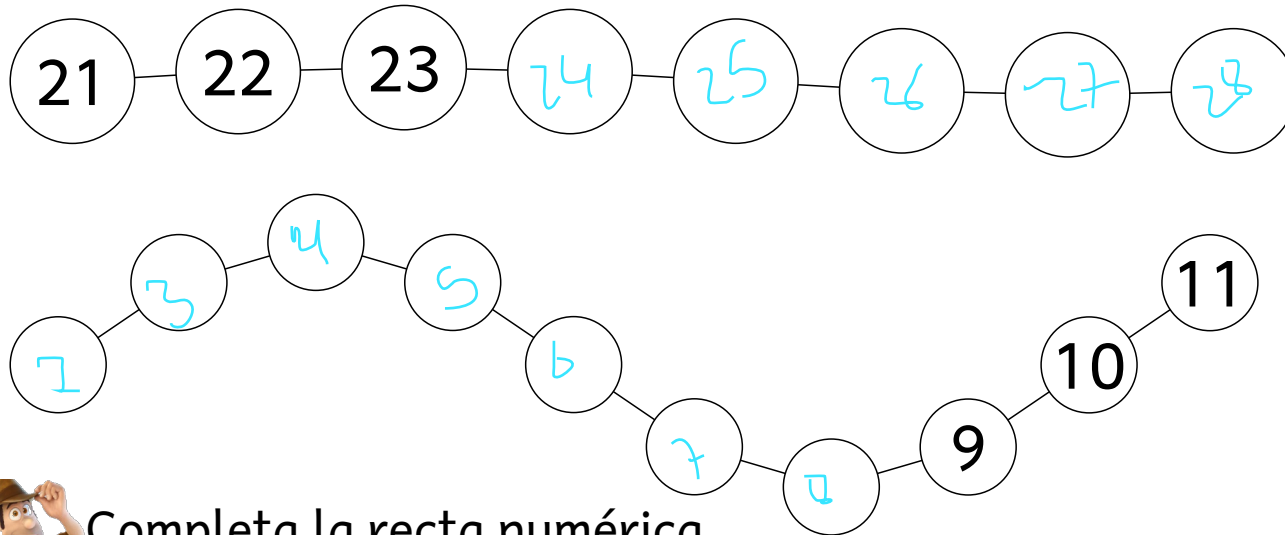
Completa la tabla con los números hasta el 30.

# NÚMEROS HASTA EL 30

1	2-3-4-5-6-7-8-9-10-11-12-13-14-15-16-17-18-19-20-21-22-23-24-25-26-27-28-29-30												



Completa las series



Completa la casita.

24	
5	19
17	7
13	11
10	14



Completa la recta numérica.

