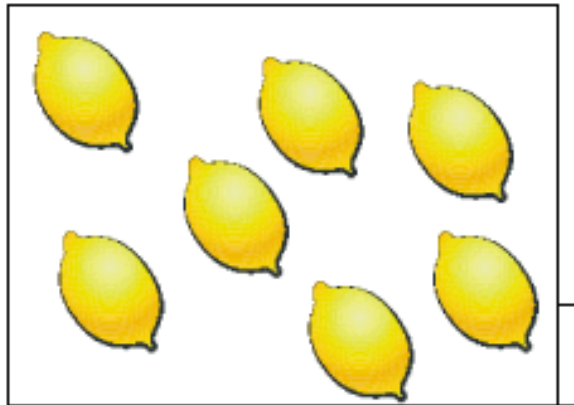



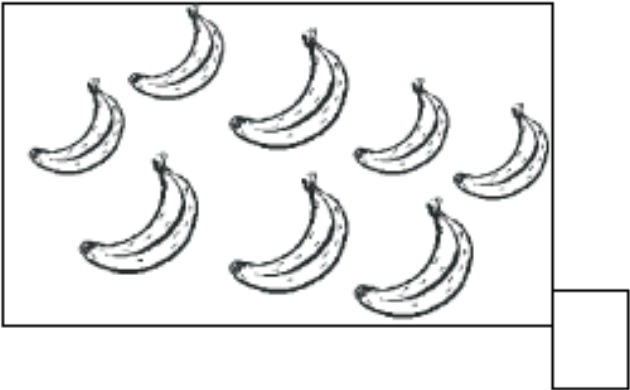
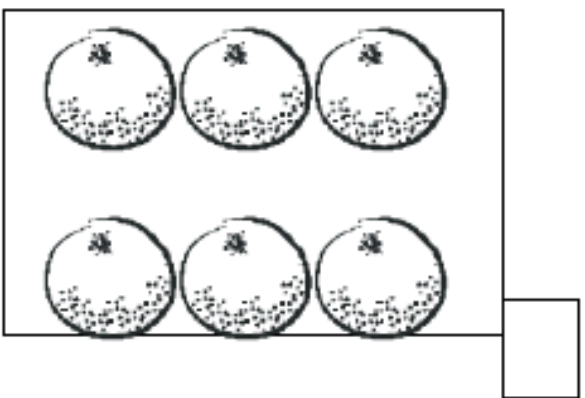




MATEMÁTICAS


PROPUESTA DE ACTIVIDADES

• Cuenta y escribe su número.



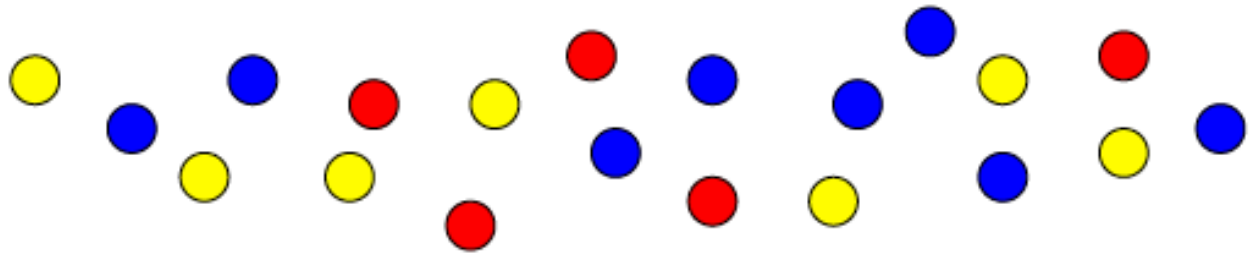
Nombre: Fecha:

• ¿Cuántos hay?.



Nombre: Fecha:

- ¿Cuántas bolas hay de cada color?. Escribe su número y colorea tantos cuadrados como bolas cuentas.



● →

● →

● →

● →

--	--	--	--	--	--	--	--	--	--

● →

--	--	--	--	--	--	--	--	--	--

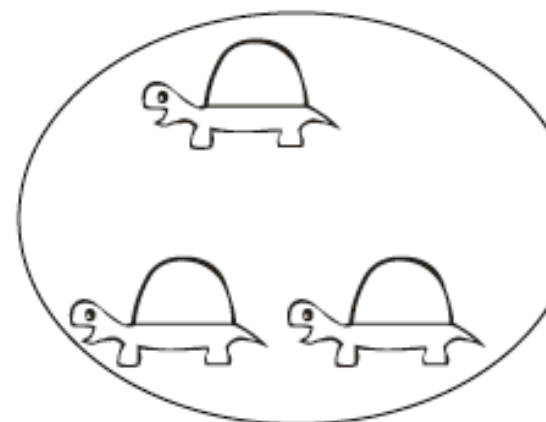


● →

--	--	--	--	--	--	--	--	--	--



Nombre: Fecha:

- Más que, menos que:

Colorea dónde hay menos.



Colorea dónde hay más:



Nombre: Fecha:

- Rodea el número mayor.

1 2

8 7

4 5

5 4

6 5

1 3

8 5

4 2

5 2

8 3

4 3

6 4

3 2

9 0

8 7

Nombre: Fecha:

- *Rodea el número mayor.*

10 12

18 17

14 15

15 14

16 15

11 13

8 15

14 12

15 12

8 13

14 13

16 14

13 12

19 10

18 17

Nombre: Fecha:

- Ordena los números de menor a mayor.

6 4 5

--	--	--

8 7 9

--	--	--

8 2 5

--	--	--

- Ordena los números de mayor a menor.

5 3 7

--	--	--

2 4 1

--	--	--

9 6 8

--	--	--

Nombre: Fecha:

- Ordena los números de menor a mayor.

3 5 1

--	--	--

4 2 6

--	--	--

5 7 6

--	--	--

- Ordena los números de mayor a menor.

3 5 4

--	--	--

2 4 3

--	--	--

9 7 8

--	--	--

Nombre: Fecha:

• Rodea el número mayor:

8 4 2

5 3 7

4 0 9

1 7 2

9 2 5

1 5 7

6 1 9

0 8 5

4 7 2

Nombre: Fecha:

• Rodea el número menor:

1 7 4

2 6 7

2 0 1

8 1 7

4 2 5

9 5 7

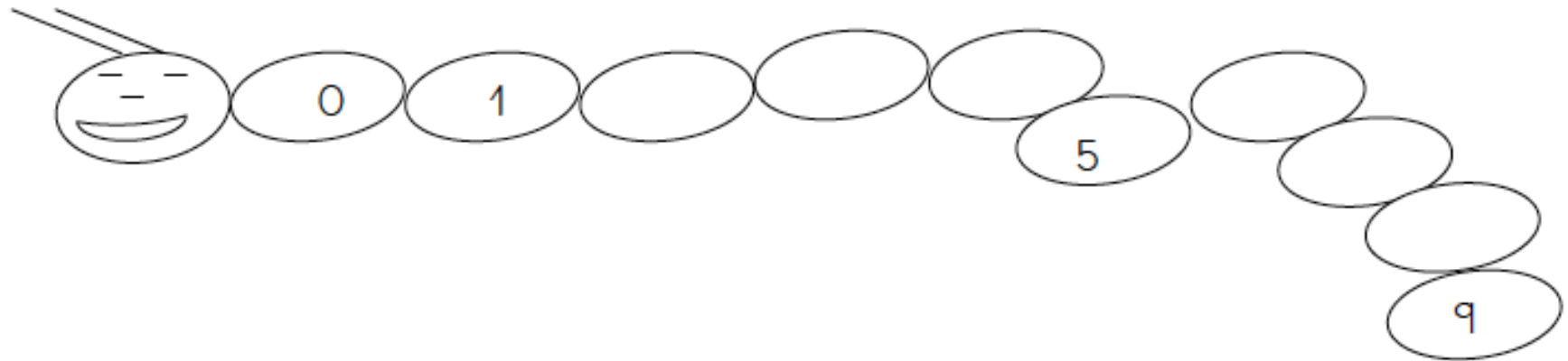
7 3 9

4 2 1

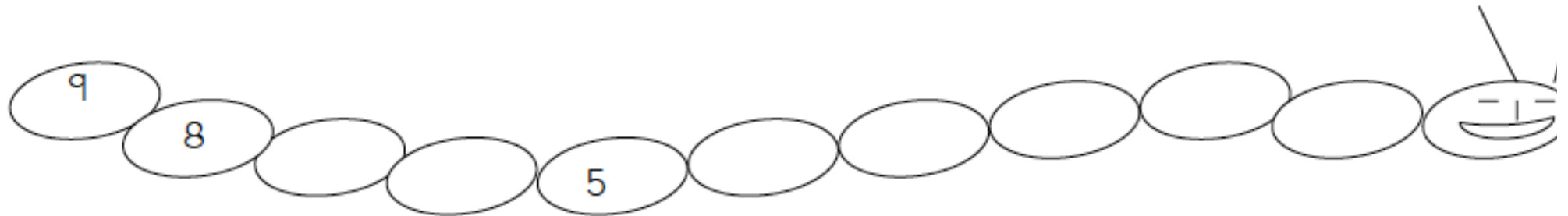
4 7 2

Nombre: Fecha:

- *Completa la serie.*

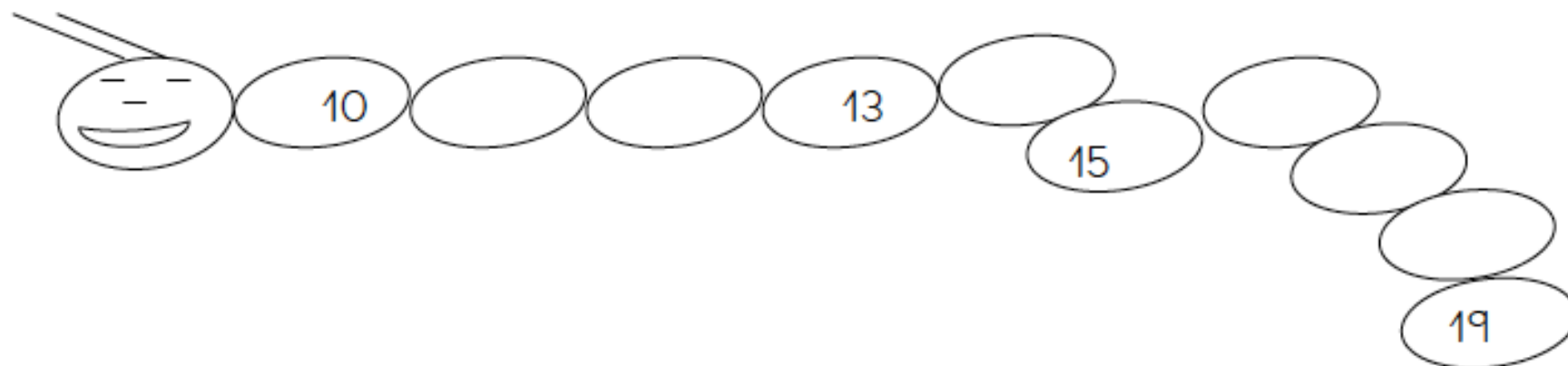


- *Completa la serie decreciente*

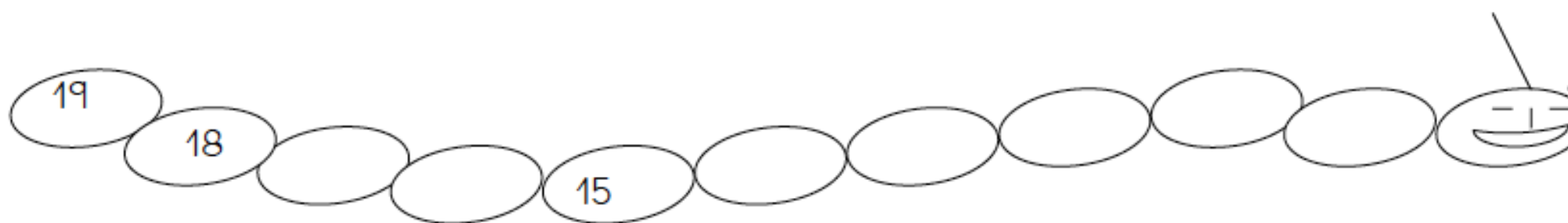


Nombre: Fecha:

- *Completa la serie.*



- *Completa la serie decreciente*



Nombre: Fecha:

• Escribe los números que faltan:

3		5	
---	--	---	--

	7		9
--	---	--	---

2		4	
---	--	---	--

0		2	
---	--	---	--

5			8
---	--	--	---

6			9
---	--	--	---

Nombre: Fecha:

- Escribe los números que faltan en estas series.

10	11		13		15
----	----	--	----	--	----

7		9	10		12
---	--	---	----	--	----

8	9		11		13
---	---	--	----	--	----

10		12		14	
----	--	----	--	----	--

Nombre: Fecha:

- *Completa la serie. Del 10 al 15.*

10	11				
----	----	--	--	--	--

- *Escribe los números que faltan en cada serie:*

	8		10
--	---	--	----

	9	10	
--	---	----	--

10		12	
----	--	----	--

12		14	
----	--	----	--

Nombre: Fecha:

- Completa la serie. Del 10 al 19.

10	11									19
----	----	--	--	--	--	--	--	--	--	----

- Escribe los números que faltan en cada serie:

	8		10
--	---	--	----

	4	5	
--	---	---	--

		11	12
--	--	----	----

		7	8
--	--	---	---

Nombre: Fecha:

- *Completa la serie. Del 14 al 19.*

14	15				
----	----	--	--	--	--

- *Escribe los números que faltan en cada serie:*

	10		12
--	----	--	----

	14	15	
--	----	----	--

14		16	
----	--	----	--

15		17	
----	--	----	--

Nombre: Fecha:

• Relaciona.

12

10 y 5

13

10 y 4

11

10 y 3

15

10 y 2

14

10 y 1

Nombre: Fecha:

● Sumamos:



Nombre: Fecha: