



Lógica - Matemática

Cuaderno de trabajo

20 de mayo

SECCIÓN DE CUENTOS




$$\square - 2 = \square$$



$$\square - 1 = \square$$

¿Cuántos cuentos quedarán en cada mesa? Escribe y calcula

UN COLLAGE



$$\boxed{7} - \boxed{} = \boxed{}$$

$$\boxed{3} - \boxed{} = \boxed{}$$

Les faltan rojos y negros.

¿Cuántos cuadrados de cada color les faltan por recortar? Escribe y calcula.

JUEGOS EN CLASE

| | | | | | | | | | |
|---|---|--|---|-----|--|--|---|-------|--|
| | | | | | | | | | |
| 0 | 1 | | 3 | | | | 7 | | |
| | | | | 🍏 🍏 | | | | 🍍 🍍 🍍 | |
| | | | | | | | | | |



Escribe los números que faltan y dibuja distintas frutas según la cantidad indicada para completar el juego.


VISITA AL JARDÍN BOTÁNICO


| |  |  |  |  |  |  |  |  |
|---|---|--|---|---|---|---|---|---|
|  | X | | | | | | | X |
|  | | | | | | | | |
|  | | | | | | | | |
|  | | | | | | | | |




Marca con una X las casillas correspondientes según la forma y el color de cada hoja.


PIEZAS DE COLORES


$$\square + \square = \square 8$$


$$\square + \square = \square 8$$




$$\square + \square = \square 8$$


$$\square + \square = \square 8$$

¿Cuántas piezas hay de cada color en las diferentes columnas? Escribe y calcula.