




# Lógica - Matemática

Cuaderno de trabajo

8 de junio


# EN EL RECREO



25

¿Cuántos niños hay en cada grupo? Escribe y calcula.

¡IDE PESCA!



$$\square - \square = \square$$

$$\square - \square = \square$$

¿Cuántos patos les quedan por pescar a cada uno? Escribe y calcula.

## EN LA PLANTA DE DEPORTES

5.º PLANTA	CAFETERÍA	
4.º PLANTA	DEPORTES	
3.º PLANTA	ROPA	
2.º PLANTA	ZAPATERÍA	
1.º PLANTA	LIBRERÍA	
PLANTA 0	SUPERMERCADO	

2.º PLANTA ZAPATERÍA 

50%

30%





$$\square - 2 = \square$$

Están en la planta . Tienen que subir  pisos más.

32

Rodea en el cartel la planta de deportes. ¿Cuántos pisos les quedan por subir? Escribe y calcula.


# EN EL TRASTERO




1

Rodea los objetos según su forma siguiendo el código de color.

# TOSTADAS CON MERMELADA



$$\square + \square = \square$$



$$\square + \square = \square$$



$$\square + \square = \square$$






9



¿Cuántas tostadas de cada tipo hay en las bandejas? Escribe y calcula.

# CLASE DE NATACIÓN



10					
9					
8					
7					
6					
5					
4					
3					
2					
1					
					

13

Observa la lámina y completa el gráfico coloreando el número de casillas correspondiente.

# EN LA JUGUETERÍA



$$\square + \square = \square$$

Los dos juguetes cuestan  $\square$  euros.

$$\square - \square = \square$$

Sobran  $\square$  euros.

Elige dos juguetes y rodéalos. ¿Cuánto cuestan los dos juguetes? Si compra esos dos juguetes, ¿cuánto dinero le sobrarán? Escribe y calcula.



¡NOS AGRUPAMOS PARA JUGAR!

4 juegan al parchís  
y 2 al tres en raya.

$$\boxed{4} + \boxed{2} = \boxed{\phantom{00}}$$

$$\boxed{\phantom{00}} - \boxed{6} = \boxed{\phantom{00}}$$

Quedan  $\boxed{\phantom{00}}$  para el puzle.



¿Cuántos niños y niñas harán el puzle? Escribe y calcula.