

# SEGUNDO DE PRIMARIA CORRECCIONES

#yomequedoencasa

DEL 21/4/20 HASTA 24/4/20





# Martes, 21 de abril de 2020.

- 1) Libro de mate: página 164 (Cálculo mental)

**ENTRENO MI CÁLCULO MENTAL**

- **Calcula mentalmente y completa.**
  - ¿Cuántos céntimos son?
    - 3 euros ▶ **300** céntimos      5 euros ▶ **500** céntimos
    - 1 € y 42 céntimos ▶ **142** céntimos      2 € y 23 céntimos ▶ **223** céntimos
    - 3 € y 50 céntimos ▶ **350** céntimos      4 € y 8 céntimos ▶ **480** céntimos
  - ¿Cuántos euros son?
    - 200 céntimos ▶ **2** €      400 céntimos ▶ **4** €      700 céntimos ▶ **7** €
  - ¿Cuántos céntimos me faltan para tener 1 euro?
    - Tengo 90 céntimos ▶ Me faltan **10** céntimos.
    - Tengo 60 céntimos ▶ Me faltan **40** céntimos.
- **Calcula.**
  - $147 + 6$  **153**     $278 + 4$  **282**     $336 + 9$  **345**     $717 + 6$  **723**     $849 + 8$  **857**
  - $193 + 20$  **213**     $157 + 50$  **207**     $249 + 70$  **319**     $284 + 40$  **324**     $371 + 60$  **431**
  - $462 + 80$  **542**     $568 + 60$  **628**     $634 + 90$  **724**     $795 + 70$  **865**     $856 + 80$  **936**
  - $10 + 90 + 8$      $30 + 70 + 7$      $40 + 60 + 9$      $20 + 80 + 6$   
**108**            **107**            **109**            **106**
  - $50 + 50 + 25$      $60 + 40 + 34$      $80 + 20 + 45$      $10 + 90 + 53$   
**125**            **134**            **145**            **153**
  - $2 \times 3$  **6**     $3 \times 5$  **15**     $4 \times 3$  **12**     $5 \times 4$  **20**     $3 \times 2$  **6**
  - $3 \times 7$  **21**     $2 \times 8$  **16**     $2 \times 7$  **14**     $6 \times 3$  **18**     $6 \times 8$  **48**
  - $5 \times 9$  **45**     $6 \times 4$  **24**     $5 \times 6$  **30**     $4 \times 7$  **28**     $5 \times 7$  **35**

- 2) Suma, resta y multiplicación:


$$583 + 239 = 822$$

$$777 - 349 = 428$$

$$6 \times 9 = 54$$

- 6) Dibuir: Paisatges de costa i d'interior.

Paisatge d'interior.



Paisatge de costa.





# Miércoles, 22 de abril de 2020.

1) Caste: Compruebo mi progreso.

1 Sustituye las palabras destacadas por pronombres personales y copia.

Ella   Él   Ellos   Ela

- Elena bucea muy bien.  
*Ella bucea muy bien.*
- Carlos juega al baloncesto.  
*Él juega al baloncesto.*
- Tus primas vendrán más tarde.  
*Ellas vendrán más tarde.*
- Mis amigos pasarán a buscarme.  
*Ellos pasarán a buscarme.*



2 Escribe nombres con mp o mb.

 *tambor*

 *alfombra*

 *columpio*

**CIAS**  
se  
alguna  
on m,  
que  
en la  
7.

2) Suma, resta y multiplicación:

$$556 + 355 = 911$$

$$672 - 348 = 324$$

$$5 \times 8 = 40$$

4) English: Write and Draw on your notebook.


-There are three cows. →



-There are three ducks. →




-There is a pig. →



-There are five sheep. →




-There is a chicken. →



-There are 7 bees. →






# Jueves, 23 de abril de 2020.

- 1) -libro de mate: páginas 166 y 167.

serva el calendario y escribe.

Meses de 30 días  
 Abril, junio, septiembre y noviembre.

Meses de 31 días  
 Enero, marzo, mayo, julio, agosto, octubre y diciembre.



2 Mira el calendario de 2020, completa y escribe qué día de la semana es.

- Tu cumpleaños ► R. L. de                     . Es
- 12 de enero ► Domingo
- 4 de septiembre ► Viernes
- 23 de junio ► Martes
- 30 de diciembre ► Miércoles

3 Lee, consulta el calendario y completa.

Ricardo se fue de vacaciones el segundo martes de agosto y volvió el último sábado de ese mes.

- Se fue el día ► 11 de agosto
- Volvió el día ► 29 de agosto
- Estuvo de vacaciones ► 19 días.

4 Lee, mira el calendario y resuelve.

El cumpleaños de Carmen es dentro de 2 semanas y el de Andrés es dentro de 2 meses.

¿Cuántos días faltan para el cumpleaños de Carmen?  
 $7 + 7 = 14$  ► Faltan 14 días.

- ¿Qué día es el cumpleaños de Carmen? El 4 de mayo.
- ¿Qué día es el cumpleaños de Andrés? El 20 de junio.

**SUGERENCIA**  
 El trabajo con importantes p... alumnos (su c... y el de sus fan... el comienzo d... vacaciones...) importante p... resulta motiv... ayuda a adqu... sentido de la tiempo.

- 2) Suma, resta y multiplicación:

$$476 + 355 = 831$$

$$372 - 148 = 224$$

$$4 \times 9 = 36$$



Viernes, 24 de abril de 2020.

- 2) Suma, resta y multiplicación:

$$765 + 155 = 920$$

$$832 - 348 = 484$$

$$6 \times 7 = 42$$

- 2) valencià. Els adjectius.

Relaciona cada substantiu amb l'adjectiu corresponent.



una classe

els amics

un dibuix

tres cadires

→ bonic

→ trencades

→ simpàtics

→ ordenada